

小樽市立小学校のかくしゅうかだい(1ねんせい)

5月25日(月)～29日(金)

【こくご】 ☆おうちのひとと そうだんして がんばりましょう。

【べんきょうすること】 ※課題とは別内容ですが、光村図書ホームページ(光村図書からのお知らせ)に、学習支援コンテンツもございます。

◎「ぶんをつくろう」(きょうかしよ44ページ～45ページ)

- (1) 44ページを こえにだして よんでみましょう。
- (2) あたらしいひらがながでてきたら かきじゆんにきをつけて こえにだしながら の一とに れんしゅうしましょう。
- (3) えをみて、ぶんをつくり の一とに かきましょう。



きつね かえる さる

およぐ ねる うたう




ぶんの おわりには 「。」(まる)を つけます。

- (4) の一とにかいたぶんのおわりに 「。」があるか たしかめましょう。
- (5) 45ページのえをみて ぶんをつくりましょう。

◎「ねこと ねっこ」(きょうかしよ46ページ～47ページ)

- (1) 47ページを こえに だして よみましょう。

- (2)  このえを みてください。
ただしく かいているのは どちらでしょう。
①ねこ ②ねっこ

- (3) 「ねこ」と「ねっこ」はどこがちがうでしょう。
- (4) 「ねっこ」のほかにも ちいさい「つ」が つくことばを の一とにかきましょう。
- (5) 「ぱ」「ぴ」「ぷ」「ぺ」「ぽ」を「。」のいちに きをつけて の一とに れんしゅうしましょう。
- (6) 「ぱ」「ぴ」「ぷ」「ぺ」「ぽ」のつくことばを さがしてみましょう。
- (7) 「ばったは、むしです。」を きょうかしよをみながら の一とに かきうつしましょう。
- (8) 「ばったは」の「は」をよむときは「わ」とよみます。
おなじように 「〇〇は、〇〇です。」という ぶんを じゆうに つくり の一とにかきましょう。


【保護者のかかわり方のポイント】 *可能な範囲でお願いします。

- 小さい「つ」を読むときは、手をたたきながら読むと効果的です。「ねこ」は2拍、「ねっこ」は3拍なります。小さい「つ」をとばさずに表記できることにつながります。
- 助詞の「は」は「わ」と読むように教えてあげてください。今後、繰り返し練習していくことで表記の仕方と読み方を習得していきます。
- 32ページの「はなのみち」にもどり、今回学習したことを意識して読んでみると、お子さんも自身の成長を感じられると思います。

5月25日(月)～5月29日(金)

【さんすう】

保護者の皆様へお願い 字を読んであげてください。
一緒に数えたり、数を確かめたりしてあげてください。

<べんきょうすること>  は べんきょうしていくときのだいじなことです。


◆「4 いくつと いくつ」(きょうかしよ31～33ページ)

1 きょうかしよ 31ページ を べんきょう しましょう

(1) ふくろのなかから おはじきを 5ことります。あかが いくつと
あおが いくつか かんがえましょう。

- ① ゆうまさんは あかが いくつと あおが いくつ でしょうか。
- ② りおさんは あかが いくつと あおが いくつ でしょうか。
- ③ はるかさんは あかが いくつと あおが いくつ でしょうか。
- ④ れんさんは あかが いくつと あおが いくつ でしょうか。

 こえに だして いってみましょう。

 おなじかずでも いろいろな わかれかたが ありますね。




もうすこし くわしく しらべてみましょう。

2 きょうかしよ 32ページ を べんきょう しましょう

(1) 5この おはじきが いくつと いくつに わかれるか しらべましょ
う。


- ① 「あかが1つ」 から じゅんばんに ならべていきます。
「あかが1つ と あおが4つ」「あかが2つ と あおが3つ」の
つづきを かんがえながら いろを めりましょう。

 ぶろっくを かぞえながら やってみましょう。

 じゅんじょよく ならべると みやすいですね。

(2) 5が いくつと いくつか ぶろっくで あらわしましょう。

- ① ぶろっくのかずを かぞえて Oのなかに すうじを いれましょう。

 「5は 1と4」のように こえに だして いってみましょう。

 5は、1と4、2と3、3と2、4と1の わけられます。



ほかの かずについても しらべてみましょう。

3 きょうかしよ 33ページ を べんきょう しましょう


(1) かくした おはじきは なんこでしょうか。(かずあて ^{げえむ} ゲーム)


- ① 6この おはじきのうち みぎてに4こあります。ひだりてに
かくした おはじきは なんこですか。


(2) 6は いくつと いくつか かんがえましょう。

- ① 6は いくつと いくつか かんがえて せんで むすびましょう。

- ② ぶろっくのかずを かぞえて Oのなかに すうじを いれましょう。

 「6は 1と5」のように こえに だして いってみましょう。

 6は、1と5、2と4、3と3、4と2、5と1にわけられます。

 おうちのひとに かずあて ^{げえむ} ゲームをしてもらいましょう。